

OPTION - A
(Basic Instrumentation Skills)

Paper : PHY-SE-4014

1. Find the correct answers of the following objective-type questions : $1 \times 4 = 4$

তলৰ প্ৰশ্নকেইটাৰ শুদ্ধ উত্তৰ বাচি উলিওৱা :

(a) The weight of a box was measured as 10.605 kg, but the actual weight of it was 10.500 kg. What is the percentage of error in the measurement ?

এটা বাকচৰ ওজন জোখোতে 10.605 kg পোৱা গ'ল। কিন্তু বাকচটোৰ প্ৰকৃত ওজন 10.500 kg জোখোমাপটোত শতকৰা হাৰত ত্ৰুটি কি হ'ব?

- (i) 0.1%
- (ii) 10%
- (iii) 1%
- (iv) 0.01%

(b) Which measurement given below is not possible to measure using an ordinary digital multimeter ?

তলত দিয়া কোনটো জোখোমাপ এটা সাধাৰণ ডিজিটেল মাল্টিমিটাৰেৰে ল'ব নোৱাৰি?

- (i) Resistance (ৰোধ)
- (ii) Phase of a signal (সংকেতৰ দশা)

(iii) AC voltage (পৰিবৰ্তী বিভৱ)

(iv) DC voltage (স্থিৰ প্ৰবাহ)

(c) Which measurement given below can not be measured directly by using a cathod ray oscilloscope (CRO) ?

তলত দিয়া কোনটো জোখোমাপ কেথড ৰে' অচিল'স্কোপৰ সহায়েৰে পোনে পোনে ল'ব নোৱাৰি?

- (i) 230V AC (*rms*)
- (ii) 2V DC
- (iii) 5mV DC
- (iv) 1V AC (peak to peak)
- 1V AC (শীৰ্ষৰ পৰা শীৰ্ষলৈ)

(d) Which measure, given below, in an ordinary electrical/electronics workshop is not an essential safety measure ?

তলত দিয়া কোনটো সাৰধানতা এখন সাধাৰণ ইলেকট্ৰিকেল/ইলেকট্ৰনিক্স কৰ্মশালাৰ বাবে অতি প্ৰয়োজনীয় নহয়?

(i) Wearing rubber shoes and emergency exit facility

ৰবৰৰ জোতা পিন্ধা আৰু তাৎক্ষণিক নিৰ্গম পথ

(ii) Proper earthing in the electrical lines

ইলেকট্ৰিকেল লাইনত আৰ্থিং (ভূমি সংযোগ) ঠিকমতে ৰাখা

(iii) Switching off all electrical connections

সকলো বৈদ্যুতিক সংযোগ বন্ধ কৰি (switch off) লোৰা

(iv) Be aware of surroundings

চাৰিওফালৰ পৰিবেশৰ প্ৰতি সজাগ বা সচেতন হৈ থকা

2. Answer the following questions in short :
 $2 \times 3 = 6$

তলত দিয়া প্ৰশ্নসমূহৰ উত্তৰ চমুকৈ দিয়া :

(a) Write down two differences between digital and analog instruments.

ডিজিটেল আৰু এনালগ যন্ত্ৰৰ মাজত থকা দুটা পাৰ্থক্য লিখা।

(b) Calculate the frequency of a sine signal observed on a CRO, if time base knob is on $7 \mu\text{s}/\text{div}$ and in display (x-axis) it shows a 4 div in a complete cycle.

কেথড ৰে' অচিল'স্কোপ এটাৰ পৰ্দাত পৰিবৰ্তী চাইন সংকেত এটাই x -অক্ষত এটা সম্পূৰ্ণ চক্ৰৰ বাবে 4 div দেখুৱাইছে। যদি টাইম বেচ নৰটো $7 \mu\text{s}/\text{div}$ (time base knob) ত স্থিৰ কৰা থাকে তেন্তে চাইন সংকেতটোৰ কম্পাংক উলিওৱা।

(c) Find the peak voltage and root mean square voltage of an AC voltage,

$$V = 220\sqrt{2} \sin 2\pi t, \quad \pi = 3.14,$$

$$t = 4.778 \text{ sec.}$$

পৰিবৰ্তী বিভৱ $V = 220\sqrt{2} \sin 2\pi t$ ৰ শীৰ্ষ বিভৱ আৰু গড় বৰ্গমূল বিভৱৰ মান উলিওৱা। ($\pi = 3.14$, $t = 4.778 \text{ sec}$)

3. Answer any two questions from (a) to (d) :
 $5 \times 2 = 10$

(a) ৰ পৰা (d) লৈ যিকোনো দুটা প্ৰশ্নৰ উত্তৰ দিয়া :

(a) Define accuracy, precision, sensitivity, resolution and range of a measuring instrument.

এটা জোখমাখ লোৰা যন্ত্ৰৰ সঠিকতা, স্পষ্টতা, সংবেদনশীলতা, নূনতম ব্যৱধান আৰু বিভৱৰ সংজ্ঞা দিয়া।

(b)

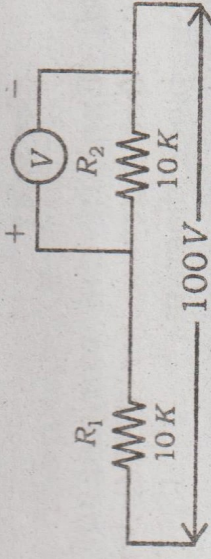


Fig. 1

Fig. 1 shows a series circuit of R_1 and R_2 resistors connected to a 100V DC source. If the voltage across R_2 is measured by two voltmeter having sensitivity of $1,000\Omega/V$ and a sensitivity of $20,000\Omega/V$, find which voltmeter will read the accurate value of voltage across R_2 . Both the meters are used in 50V range.

Fig. 1 ত R_1 আৰু R_2 ৰোধক দুটা 100V স্থিৰ বিভৱৰ লগত সংযোগ কৰা হৈছে। R_2 ৰোধকৰ দুই মুৰৰ বিভৱ পাৰ্থক্য যদি $1,000\Omega/V$ আৰু $20,000\Omega/V$ সংবেদনশীলযুক্ত ভল্টমিটাৰ দুটাৰ দ্বাৰা 50V পৰিসৰত জুখিলে কোনটো ভল্টমিটাৰেদি R_2 ৰ সঠিক বিভৱ ভেদ পোৱা যাব?

(c) Make a block diagram of a basic DC voltmeter and DC ammeter using a permanent magnet moving coil galvanometer (PMMC).

স্থায়ী চুম্বক চলকুণ্ডলী গেলভেন' মিটাৰ এটা ডি.চি. ভল্টমিটাৰ আৰু ডি.চি. এমিটাৰলৈ কেনেকৈ ৰূপান্তৰ কৰিব পাৰি?

(d) Explain the working of a digital frequency meter (DFM) with a neat block diagram.

পৰিস্কাৰ খণ্ডচিত্ৰৰ সহায়ত ডিজিটেল কম্পনাংক মিটাৰ এটাৰ কাৰ্যপ্ৰণালী ব্যাখ্যা কৰা।

4. Answer **only three** questions from (a) to (f):
 $10 \times 3 = 30$

(a) ৰ পৰা (f) লৈ যিকোনো তিনিটা প্ৰশ্নৰ উত্তৰ দিয়া :

(a) (i) Define direct and indirect methods of measurement with examples. 2

জোগমাখৰ প্ৰত্যক্ষ আৰু পৰোক্ষ প্ৰক্ৰিয়াৰ সংজ্ঞা উদাহৰণসহ লিখা।

(ii) What is zero error in a measuring instrument? Why an instrument needs to be calibrated? 2

মাপন যন্ত্ৰ এটাৰ শূন্যৰ তুল কি? এটা যন্ত্ৰ কিয় ক্ৰমাংকন কৰা উচিত?

(iii) Give one example of gross error, systematic error, random error. 3

স্থূল তুল, পদ্ধতিগত তুল, যাদৃচ্ছিক তুলৰ প্ৰত্যেকৰে একোটকৈ উদাহৰণ দিয়া।

(iv) The potential drop across a resistor is found by five different students as 10V, 10.5V, 11.5V, 9.6V and 12.4V. Find mean, standard deviation and standard error of the measurement. 3

এটা ৰোধকৰ মাজত বিভৱ ভেদ পাঁচজন ছাত্ৰই 10V, 10.5V, 11.5V, 9.6V আৰু 12.4V পালে। বিভৱভেদৰ গড় মান, আদৰ্শ চুতি, আদৰ্শ তুলৰ মান উলিওৱা।

(b) (i) Draw the block diagram of an AC millivoltmeter and explain the functions of each components. 8


পৰিবৰ্তী মিলিভল্টমিটাৰ এটাৰ খণ্ডচিত্ৰ আঁকা আৰু প্ৰত্যেকটো অংশৰে কাৰ্যকাৰীতা ব্যাখ্যা কৰা।

(ii) Block diagram of a regulated power supply is given below :



What are the main electronics components used for rectifier and smoothing ? 2

নিয়ন্ত্ৰিত বিদ্যুত সৰবৰাহ এটাৰ খণ্ডচিত্ৰ তলত দিয়া ধৰনে দিয়া হ'ল :



সংশোধক আৰু মসৃণক বাবে কি ইলেকট্ৰনিক্স উপাদান ব্যৱহাৰ কৰা হয় ?

(c) (i) Why is CRO important in an electrical/electronic laboratory ? 1

এটা ইলেকট্ৰিকেল/ইলেকট্ৰনিক পৰীক্ষাগাৰত 'চি.আৰ.অ' (CRO) কিয় গুৰুত্বপূৰ্ণ ?

(ii) Draw a neat block diagram of a CRO and explain each part of cathod ray tube. 4+4=8

'চি আৰ অ' এটাৰ পৰিস্কাৰ খণ্ডচিত্ৰ আঁকা আৰু কেথড ৰে' টিউবৰ প্ৰত্যেকটো অংশ বৰ্ণনা কৰা।

(iii) Write down two control knobs of front panel of a CRO. 1

'চি আৰ অ' এটাৰ ফ্ৰন্ট পেনেলত থকা দুটা কন্ট্ৰল ন'বৰ নাম লিখা।

(d) (i) What is a signal generator ? Write down two different signal generators and uses of it. 1+2=3

সংকেত উৎপাদক কি? দুটা সংকেত উৎপাদকৰ নাম আৰু ব্যৱহাৰ লিখা।

(ii) Draw the block diagram of a function generator and explain each part of it. 4

ফাংছন জেনেৰেটৰ এটাৰ খণ্ডচিত্ৰ আঁকা প্ৰত্যেকটো অংশ ব্যাখ্যা কৰা।

(iii) Name the following waveforms : 3




Fig. 2

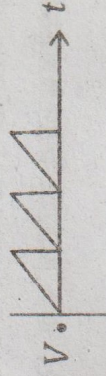


Fig. 3

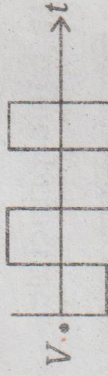


Fig. 4

ওপৰত আঁকা তৰংগৰূপৰ নাম লিখা :

(e) (i) Name two physical parameters which can be measured by using an LCR bridge. 2

এল. চি. আৰ. (LCR) ব্ৰীজৰ সহায়ত জুখিব পৰা দুটা ভৌতিক ৰাশিৰ নাম লিখা।

(ii) Define resonance, power factor in an LCR circuit. 2

এল. চি. আৰ বৰ্তনী এটাৰ অনুৰণন আৰু পাৰাৰ ফেক্টৰৰ সংজ্ঞা দিয়া।

(iii) Determine power factor of an LCR circuit with $R = 50 \text{ ohm}$, $L = 10 \text{ mH}$ and $C = 10 \mu\text{F}$ in series across 200V, 50Hz mains. 3

এল. চি. আৰ বৰ্তনী এটাৰ পাৰাৰ ফেক্টৰ উলিওৱা যদিহে $R = 50 \text{ ohm}$, $L = 10 \text{ mH}$ আৰু $C = 10 \mu\text{F}$, 200V, 50Hz উৎসৰ লগত শ্ৰেণীবদ্ধভাবে সংযোগ কৰা হয়।

(iv) What is a Q meter ? Write down its basic principle. 1+2=3

Q মিটাৰ কি? ইয়াৰ সাধাৰণ নীতিটো লিখা।

(f) (i) Write down four function knobs of a front panel of a digital multimeter (DMM). 2

ডিজিটেল মাল্টিমিটাৰ এটাৰ ফ্ৰন্ট পেনেলত থকা চাৰিটা ফাংচন ন'বৰ নাম লিখা।

(ii) Prepare the specification of a digital multimeter (DMM) to buy it for an undergraduate physics laboratory use. 3

স্নাতক মহলাৰ পদাৰ্থ বিজ্ঞান বিভাগৰ পৰীক্ষাগাৰত ব্যৱহাৰ বাবে প্ৰয়োজন হোৱা ডি.এম.এম. কিনিবলৈ বৈশিষ্ট্যতা তৈয়াৰ কৰা।

(iii) Draw the block diagram of a DMM. 5

ডিজিটেল মাল্টিমিটাৰ এটাৰ খণ্ডচিত্ৰ অংকন কৰা।

OPTION-B

(Research and Technical Writing)

PHY-SE-4024

1. Answer the following questions : $1 \times 4 = 4$
 - (a) Why is a footnote used in a report ?
 - (b) How will you declare a document type in LATEX ?
 - (c) Where can you set the shading color for a range of cells in EXCEL ?
 - (d) Write a characteristic of ORIGIN.
2. Answer the following questions : $2 \times 3 = 6$
 - (a) Write *two* differences between scientific report and thesis.
 - (b) Write the code in LATEX to 'Bold' and 'Underline' text.
 - (c) What is the value of the following EXCEL function ?
= FLOOR (14,4)
3. Answer **any two** questions : $5 \times 2 = 10$
 - (a) What is the need of scientific word processors ? Give an example of a scientific word processor. What is appendix in a research article ?
 $2+1+2=5$

- (b) Name the different types of charts in EXCEL. Write in detail how you will create *any one* of them ? $2+3=5$
 - (c) How will you create 'Ordered lists' and 'Unordered lists' in LATEX ?
 $2\frac{1}{2}+2\frac{1}{2}=5$
 - (d) Write a note on 'Integrate Gadget' tool in ORIGIN.
4. Answer **any three** questions : $10 \times 3 = 30$
- (a) Write the different components of a scientific report and discuss each component in detail. $2+8=10$
 - (b) Discuss the difference between a research proposal, thesis, dissertation and technical report.
 - (c) What is the difference between 'inline' math mode and 'display' math mode ? Explain with example. Write a code in LATEX that shall display
$$\dot{v} = u + at$$
where v is the final velocity
 u is the initial velocity
 a is the acceleration
 t is the time'.
 $5+5=10$
 - (d) What are the main features of EXCEL ? Discuss *any three* of them.
 $4+2+2+2=10$

(e) What do you mean by cell address in EXCEL ? How do you add comments to a cell ? What is a cell reference in EXCEL ?
3+3+4=10

(f) How will you work with multiple sheet in 'ORIGIN' ?

OPTION - D

(Photoshop)

Paper : PHY-SE-4044

1. Answer as directed : 1×4=4

(i) The tool used to darken a selected area of a photo is
(a) sponge
(b) burn
(c) dodge
(d) grayscale

(Choose the correct answer)

(ii) What is extension for photoshop file ?

- (a) docx
- (b) xls
- (c) avi
- (d) jpeg

(Choose the correct answer)

(iii) CMYK stands for

- (a) Cyan Magenta Yellow Blue
- (b) Cyan Magenta Yellow Black
- (c) Cyan Magenta Yellow Brown
- (d) Cream Magenta Yellow Kole

(Choose the correct answer)

(iv) What is resolution in Photoshop ?

2. Answer the following questions : 2×3=6

(i) What is a smart blur ?

(ii) What is a grayscale mode ?

(iii) What is layer in Photoshop ?

3. Answer **any two** of the following questions :
5×2=10

- (i) How can you resize an image ?
- (ii) Which are the editing and painting tools in Adobe Photoshop ?
- (iii) What is the difference between PSB (Photoshop Big) and PSD (Photoshop Document) ?
- (iv) Mention about the tools to reduce the noise of an image.

4. Answer **any three** of the following questions :
10×3=30

- (a) Write a description on Photoshop.
- (b) Discuss the process of changing foreground and background colour.
- (c) How to create a transparent background in Photoshop ?
- (d) Write a short essay on the items of Layers panel.
- (e) How do you organize layers in Photoshop ? What tool can you use to combine images ?
- (f) Describe the common features of Photoshop filter.

OPTION - F

(Radiation Safety)

Paper : PHY - SE - 4064

1. Answer the following questions : 1×4=4

তলৰ প্ৰশ্নসমূহৰ উত্তৰ দিয়া :

(a) Write SI unit of temperature.

উষ্ণতাৰ SI একক লিখা।

(b) What do you mean by DAC ?

DAC বুলিলে কি বুজা?

(c) Define curie.

কুৰীৰ সংজ্ঞা দিয়া।

(d) Name the particles produced in pair production.

যুগ্ম উৎপাদনৰ কণা দুটাৰ নাম লিখা।

2. Answer the following questions : 2×3=6

তলত দিয়া প্ৰশ্নৰ উত্তৰ কৰা :

(a) Name the constituents of atoms and nuclei.

পৰমাণু আৰু নিউক্লিয়াচৰ গঠিত হোৱা কণাবোৰৰ নাম লিখা।

(b) Write two properties of α -rays.

আলফা বশিৰ দুটা ধৰ্ম লিখা।

(c) What do you mean by errors in counting?

গণনাৰ এটি বুলিলে কি বুজা?

3. Answer **any two** of the following : $5 \times 2 = 10$

তলৰ যিকোনো দুটা প্ৰশ্নৰ উত্তৰ কৰা :

(a) Define natural radioactivity and derive an expression for half life. $2 + 3 = 5$

প্ৰাকৃতিক তেজস্ক্ৰিয়তাৰ সংজ্ঞা দিয়া আৰু অৰ্ধআয়ুকালৰ প্ৰকাশ বাশি উলিওৱা।

(b) Discuss the interaction of charge particles with matter.

আহিত কৰাই পদাৰ্থৰ লগত কেনেদৰে ক্ৰিয়া কৰে আলোচনা কৰা।

(c) A certain radioisotope has a half life of 8.10 days. What percentage of an initial sample of this isotope remains after 26 days?

কোনো নিৰ্দিষ্ট তেজস্ক্ৰিয় সমস্থানিক এটাৰ অৰ্ধআয়ুকাল 8.10 দিন। 26 বছৰৰ পিচত ইয়াৰ কিমান শতাংশ থাকিব?

(d) Discuss about linear energy transfer.

ৰৈখিক শক্তি স্থানান্তৰ সম্বন্ধে আলোচনা কৰা।

4. Answer **any three** of the following questions : $10 \times 3 = 30$

তলৰ যিকোনো তিনিটা প্ৰশ্নৰ উত্তৰ কৰা :

(a) Explain the construction and theory of Coolidge tube. Derive an expression for minimum wavelength of X-rays.

$7 + 3 = 10$

কুলীজ নলী এটাৰ গঠন আৰু কাৰ্যনীতি আলোচনা কৰা। বৰ্জন বশিৰ নিম্নতম তৰংগ দৈৰ্ঘ্যৰ প্ৰকাশ বাশি এটা উলিওৱা।

(b) What is tomography? State its theory. Discuss multisection radiography.

$4 + 6 = 10$

টমোগ্ৰাফী কি? ইয়াৰ উপপাদ্যটো লিখা। বহুশাখা ৰেডিঅ'গ্ৰাফী সম্বন্ধে আলোচনা কৰা।

(c) Write the basic principle of MRI. Discuss different imaging methods.

$2 + 8 = 10$

MRI ৰ মূলনীতিটো লিখা। বিভিন্ন ইমেজিং পদ্ধতিবোৰ আলোচনা কৰা।

5+5=10

(d) Write short notes on :

চমু টোকা লিখা :

(i) Radiation hazard

বিকিৰণ বিপদ

(ii) Nuclear energy level

নিউক্লিয় শক্তি স্তৰ

(e) Define radioactivity. State and explain the law of radioactivity. 2+8=10

তেজস্ক্ৰিয়তাৰ সংজ্ঞা দিয়া। তেজস্ক্ৰিয়তাৰ সূত্ৰটো লিখি ব্যাখ্যা কৰা।

(f) How does transmutation of nucleus take place when α , β and γ rays are emitted? Define specific activity and write its unit.

α , β আৰু γ বশি নিঃসৰণৰ নিউক্লিয়াচ এটাৰ কেনেদৰে ৰূপান্তৰ ঘটে? আপেক্ষিক তেজস্ক্ৰিয়তাৰ সংজ্ঞা দিয়া আৰু একক লিখা।

OPTION - G

(Renewable Energy and Energy Harvesting)

Paper : PHY-SE-4074

1. Answer the following questions : 1×4=4

তলৰ প্ৰশ্নৰ উত্তৰ দিয়া :

(a) What is solar distillation process ?

সৌৰ পতন পদ্ধতি কি?

(b) Green plants convert solar energy into chemical energy by means of _____.
(Fill in the blank)

____ দ্বাৰা উদ্ভিদে সৌৰশক্তি বাসায়নিক শক্তিলৈ ৰূপান্তৰ কৰে।
(খালী ঠাই পূৰ কৰা)

(c) Write two characteristics of photovoltaic system.

ফট'ভল্টায়িক পদ্ধতিৰ দুটা বৈশিষ্ট্য লিখা।

(d) What do you mean by ocean energy potential ?

সামুদ্ৰিক শক্তি সম্ভাৰনা বুলিলে কি বুজা?

2. Answer the following questions : 2×3=6

তলৰ প্ৰশ্নৰ উত্তৰ কৰা :

(a) Write down the differences between the conventional and non-conventional energies.

পৰম্পৰাগত আৰু অপৰম্পৰাগত শক্তিৰ মাজত থকা পাৰ্থক্য লিখা।

(b) Why is coal a non-renewable energy source? Mention an adverse effect of coal.

কয়লা কিয় এটা অনবীকৰণযোগ্য শক্তিৰ উৎস? কয়লাৰ এটা প্ৰতিকূল প্ৰভাৱ উল্লেখ কৰা।

(c) What do you mean by primary, secondary and supplementary energy sources?

মুখ্য, গৌণ আৰু পৰিপূৰক শক্তিৰ উৎস বুলিলে কি বুজা?

3. Write short notes on : (any two) $5 \times 2 = 10$

চমু টোকা লিখা : (যিকোনো দুটা)

(a) Biochemical conversion

জৈৱৰাসায়নিক ৰূপান্তৰ

(b) Solar pond

সৌৰ পুখুৰী

(c) Ocean thermal energy

সামুদ্ৰিক তাপীয় শক্তি

(d) Geothermal resources

ভূতাপীয় সম্পদ

4. Answer any three questions : $10 \times 3 = 30$

তলৰ যিকোনো তিনিটা প্ৰশ্নৰ উত্তৰ দিয়া :

(a) What is wave energy system? How does it work? Discuss various types of wave energy system. (at least three)

$2+2+6=10$

তৰংগ শক্তি তন্ত্ৰ কি? ই কেনেকৈ কাম কৰে? বিভিন্ন প্ৰকাৰৰ তৰংগ শক্তি তন্ত্ৰৰ বিষয়ে আলোচনা কৰা। (কমেও তিনিটা)

(b) What is photovoltaic system? What is the difference between photovoltaic panel and solar panel? Describe the arrangement of components of a photovoltaic system. $2+3+5=10$

ফট'ভল্টায়িক পদ্ধতি কি? ফট'ভল্টায়িক ফলক আৰু সৌৰ ফলকৰ মাজত পাৰ্থক্য কি? ফট'ভল্টায়িক পদ্ধতিৰ বিভিন্ন অংশসমূহৰ সজ্জা বৰ্ণনা কৰা।

(c) What do you mean by a wave? Write down the primary characteristics of waves. Discuss three types of waves with examples. $2+3+5=10$

তৰংগ বুলিলে কি বুজা? তৰংগৰ মুখ্য বৈশিষ্ট্যসমূহ লিখা। তিনি প্ৰকাৰৰ তৰংগ উদাহৰণসহ বৰ্ণনা কৰা।

(d) Discuss various hydropower resources.
What are the environmental impact of
hydropower sources ? 7+3=10

জলশক্তি সম্পদসমূহৰ বিষয়ে আলোচনা কৰা। পৰিবেশৰ
ওপৰত জলশক্তি উৎসৰ প্ৰভাৱ কি?

(e) What is piezoelectric effect ? Describe
the mechanism of piezoelectric effect.
Explain the uses of piezoelectric effect.
2+4+4=10

পিয়েজ' বৈদ্যুতিক প্ৰভাৱ কি? পিয়েজ' বৈদ্যুতিক প্ৰভাৱৰ
ব্যৱহাসমূহ বৰ্ণনা কৰা। পিয়েজ' বৈদ্যুতিক প্ৰভাৱৰ
ব্যৱহাসমূহ আলোচনা কৰা।

(f) What do you mean by sustainable
development ? How does the
environment affect sustainable
development ? Discuss its major
problems. 2+5+3=10

বহনক্ষম উন্নয়ন বুলিলে কি বুজা? বহনক্ষম উন্নয়নৰ
ওপৰত পৰিবেশৰ প্ৰভাৱ কেনেকুৱা? ইয়াৰ প্ৰধান
সমস্যাসমূহ আলোচনা কৰা।

Total number of printed pages-24

3 (Sem - 4 /CBCS) PHY SE 1/2/4/6/7

2023

PHYSICS

(Skill Enhancement Course)

Answer the Questions from any one Option.

OPTION - A

(Basic Instrumentation Skills)

Paper : PHY-SE-4014

OPTION - B

(Research and Technical Writing)

PHY-SE-4024

OPTION - D

(Photoshop)

Paper : PHY-SE-4044

OPTION - F

(Radiation Safety)

Paper : PHY-SE-4064

OPTION - G

(Renewable Energy and Energy Harvesting)

Paper : PHY-SE-4074

Full Marks : 50

Time : Two hours

**The figures in the margin indicate
full marks for the questions.**

Answer either in English or in Assamese.

(d) Discuss various hydropower resources.
What are the environmental impact of
hydropower sources ? 7+3=10

জলশক্তি সম্পদসমূহৰ বিষয়ে আলোচনা কৰা। পৰিবেশৰ
ওপৰত জলশক্তি উৎসৰ প্ৰভাৱ কি?

(e) What is piezoelectric effect ? Describe
the mechanism of piezoelectric effect.
Explain the uses of piezoelectric effect.
2+4+4=10

পিয়েজ' বৈদ্যুতিক প্ৰভাৱ কি? পিয়েজ' বৈদ্যুতিক প্ৰভাৱৰ
ব্যৱহাসমূহ বৰ্ণনা কৰা। পিয়েজ' বৈদ্যুতিক প্ৰভাৱৰ
ব্যৱহাসমূহ আলোচনা কৰা।

(f) What do you mean by sustainable
development ? How does the
environment affect sustainable
development ? Discuss its major
problems. 2+5+3=10

বহনক্ষম উন্নয়ন বুলিলে কি বুজা? বহনক্ষম উন্নয়নৰ
ওপৰত পৰিবেশৰ প্ৰভাৱ কেনেকুৱা? ইয়াৰ প্ৰধান
সমস্যাসমূহ আলোচনা কৰা।

Total number of printed pages-24

3 (Sem -4 /CBCS) PHY SE 1/2/4/6/7

2023

PHYSICS

(Skill Enhancement Course)

Answer the Questions from any one Option.

OPTION -A

(Basic Instrumentation Skills)

Paper : PHY-SE-4014

OPTION -B

(Research and Technical Writing)

PHY-SE-4024

OPTION -D

(Photoshop)

Paper : PHY-SE-4044

OPTION -F

(Radiation Safety)

Paper : PHY-SE-4064

OPTION -G

(Renewable Energy and Energy Harvesting)

Paper : PHY-SE-4074

Full Marks : 50

Time : Two hours

The figures in the margin indicate
full marks for the questions.

Answer either in English or in Assamese.